

平成27年度 東京都立特別支援学校
高等部 職業学科

適性検査 I - 2

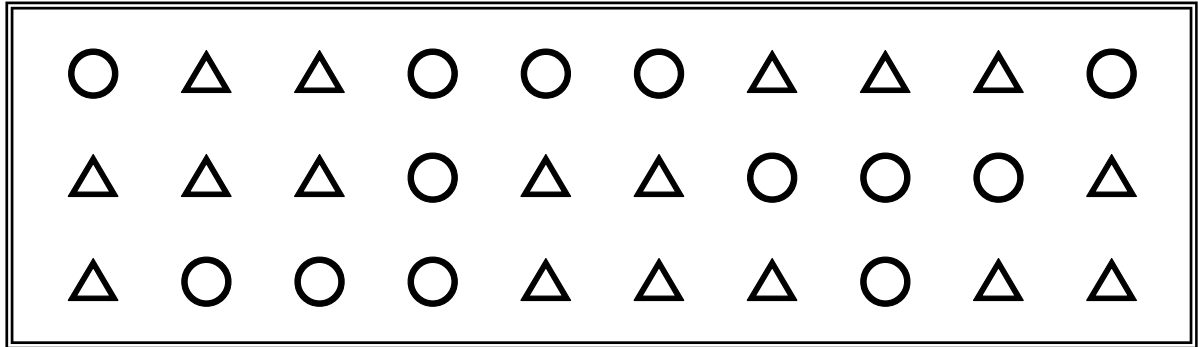
番 号

氏 名

得 点

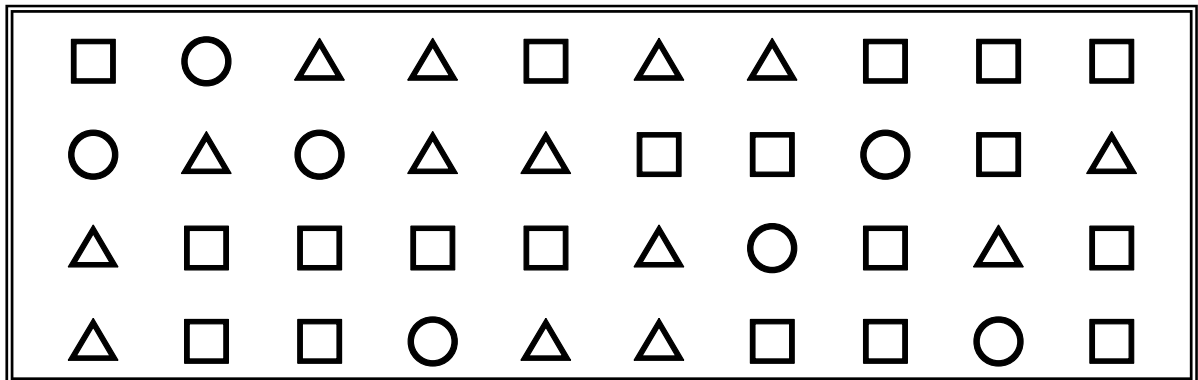
【問題1】 次の問いに答えなさい。

(問1) 下の の中には、○と△の2種類の図形がかかれています。
こすう それぞれの個数を数えて、かいとうらん 解答欄に数字で答えなさい。




解答欄	○の個数	△の個数
	個	個


(問2) 下の の中には、○と△と□の3種類の図形がかかれています。それぞれの個数を数えて、解答欄に数字で答えなさい。



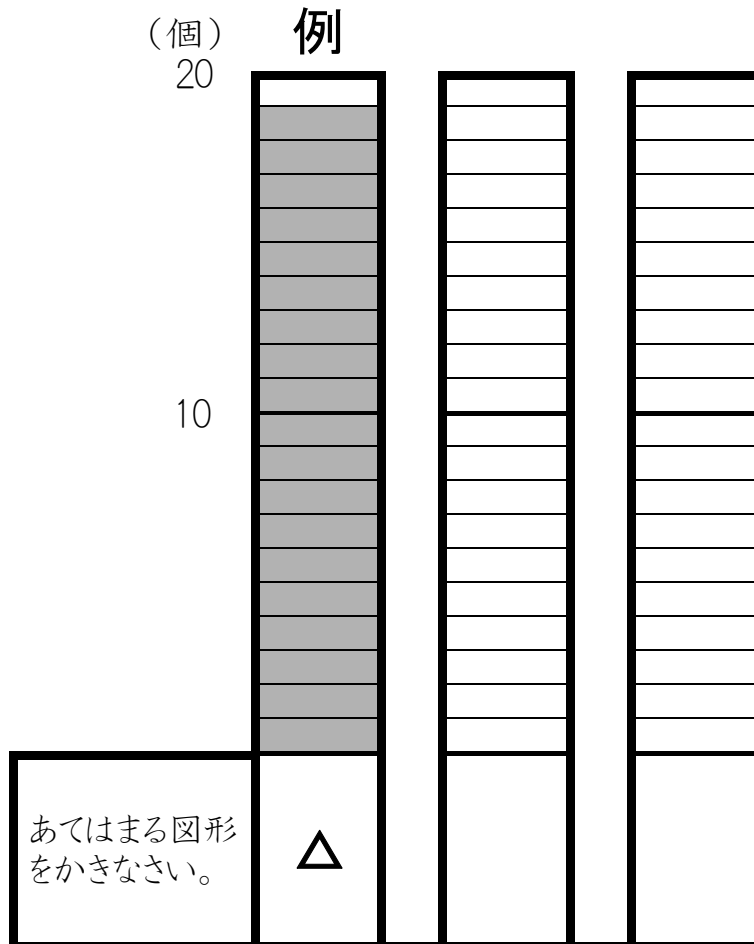
解答欄	○の個数	△の個数	□の個数
	個	個	個

(問3) 下の  の中には、○と△と□の3種類の図形がかかれています。

それぞれの図形の個数を数え、例のように、○と□の個数分のマスをぬりなさい。なお、○と□のうち、個数の多い図形をグラフの左に、個数の少ない図形をグラフの右になるようにしなさい。



【グラフ】



【問題2】 次の問いに答えなさい。

(問1) の文章を読んで、下の「こづかい帳」を完成させなさい。

なお、買ったものの きんがく 金額には、すべて しょうひぜい 消費税が ふく 含まれています。

6月1日、2000円もらいました。

6月3日、100円のジュースを1本買いました。

6月5日、200円のボールペンを1本買いました。

6月7日、300円の本を1冊 さつ 買いました。

6月9日、400円の手帳を2冊買いました。

「こづかい帳」

月 日	ことから・買ったもの	入ったお金	使ったお金	残っているお金
6月 1日	こづかい	2000円	0円	2000円
6月 3日	ジュース	0円	100円	1900円
6月 5日		円	円	円
6月 7日		円	円	円
6月 9日		円	円	円

(問2) 上の見本の表を下の表に書き写したところ、まちがいがありました。

例のように、下の表のまちがっているところに、 \equiv (二重線) ^{にじゅうせん} を引いて、正しく書き直さない。

なお、下の表には、例のところのほかに、まちがいがある8か所あります。

(見 本)

表			
品物	単価	数量	合計
上質紙	500円	5冊	2500円
インク	300円	10本	3000円
ノート	80円	100冊	8000円
ファイル	200円	10冊	2000円
ボールペン	100円	50本	5000円
コピー用紙	550円	5冊	2750円

表			
品物	単価	数量	合計
上質紙	500円	例 5冊 4冊	2500円
インク	800円	10本	3500円
ノート	80円	100冊	3000円
ノート	200円	10本	2000円
ボールペン	200円	50本	5000円
コピー用紙	550円	6冊	2700円

